







1. İlköğretim haftası ne zaman kutlanır?




- A) Okulların açıldığı ilk hafta
 B) Karneleri aldığımız hafta
 C) Okumaya geçtiğimiz hafta

2. Okulun bölümleri ile ilgili hangi seçenekteki eşleştirme yanlıştır?


- A)  → Sınıf
 B)  → Öğretmenler odası
 C)  → Laboratuvar


3.   
 Yukarıdaki görselleri gençten yaşlıya doğru sıraladığımızda en sonda hangisi yer alır?

- A)  B)  C) 

4.   
 Yukarıdakilerden hangisi sınıfımızda bulunan eşyalardan biri değildir?

- A)  B)  C) 

5. En arka sırada oturan  gözlü öğrenci sınıfımıza yeni geldi.

" ile gösterilen yer hangi seçenekteki kelime ile tamamlanmalıdır?

- A) kıvrıkcık B) kısa C) mavi

6. (...) Öğretmenimiz ders anlatırken izin almadan konuşmamalıyız.
 (...) Çöpleri okulun arka bahçesine atmamız.
 (...) Okula yalnızca canımız istediğinde gitmeliyiz.

Yukarıdaki ifadelerden kaç tanesinin başına "Doğru" yazılmalıdır?

- A)  B)  C) 

7



Yukarıdakilerden hangisi okul hazırlığı yapan Ece'nin çantasında bulunması gereken eşyalardan biri değildir?

- A) B) C)

8



Annem yemek masasını hazırlamış fakat masaya koymayı unutmuştu.

tümcesi hangi seçenekteki görsel adı ile tamamlanmalıdır?

- A) B) C)

9. Aşağıdakilerden hangisi hem görsel hem de işitsel bir iletişim aracıdır?

- A) B) C)

10. Hangi öğrencinin okul kurallarına uyduğu söylenemez?

- A) Çöpleri, çöp kutusuna atarım.
 B) Sınıftan koşarak çıkarım.
 C) Okula zamanında gelirim.

11.




Emre, elindeki dürbün ile gökyüzüne bakarken kocaman bir gördü.

"" ile gösterilen yere aşağıdakilerden hangisi yazılmalıdır?

- A) uçak B) tren C) tır

12. Hangi seçenekteki yayanın davranışı yanlıştır?



TEST 2



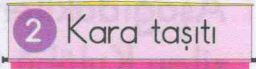

Okul Heyecanım - 2

Adı: _____
Soyadı: _____
Doğru: _____ Yanlış: _____
Önerilen Süre: 20 dk.




1.  * Sağlıklı beslenmemizi engeller.
* Derslerdeki başarı oranımızı azaltır.
* Vücudumuzu hastalıklardan korur.

Aşı ile ilgili yukarıdaki ifadelerden kaç tanesi doğrudur?

- A)  B)  C) 

2.    

Yukarıdaki görsel kaç numaralı kutu ile eşleştirilmelidir?

- A)  B)  C) 

3.  Okulda arkadaşının yaralandığını gören Gizem, öncelikle ne yapmalıdır?




- A) Ambulans çağırmalıdır.
B) Polisi aramalıdır.
C) Öğretmenine haber vermelidir.

4. Atatürk, nerede doğmuştur?

- A) İstanbul'da
B) Ankara'da
C) Selanik'te



5. Hangi öğrencinin hayvanlara iyi davrandığı söylenemez?

- A)  Köpeğimi cezalandırmak için aç bırakırım.
B)  Sokaktaki kediyi süt ile besledim.
C)  Akvaryumdaki balıklarla konuşmayı çok seviyorum.

6. "Okul Heyecanım" temasının kavramları ile ilgili hangi seçenekteki eşleştirme doğrudur?

- A)  → Burun
B)  → Türk bayrağı
C)  → Üst geçit

7. Aşağıdakilerden hangisi olumsuz bir davranıştır?

- A) Hoşgörülü olmak
- B) Yalan söylemek
- C) Yardımsever olmak

8.



Yaz tatilinde Atatürk'ün kabrini ziyaret etmek için gittik.

cümlesi hangi seçenekteki kelime ile tamamlanır?

- A) Dolmabahçe'ye
- B) Selanik'e
- C) Anıtkabir'e

9.

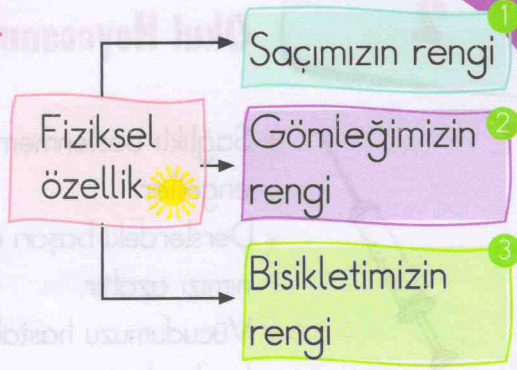



Benim görevim hastaları tedavi etmektir.




Kapının arkasından bizlere seslenen meslek çalışanı, aşağıdakilerden hangisidir?

- A)
- B)
- C)




10.



 ile gösterilen kutu kaç numaralı kutu ile eşleştirilmelidir?

- A) 
- B) 
- C) 

11. Aşağıdakilerden hangisi Yeşilay Kulübü ile ilgili hazırlanan pankartlardan biri olamaz?

- A) 
- B) 
- C) 

12. Deprem ile ilgili aşağıdaki ifadelerden hangisi doğrudur?

- A) Can ve mal kaybına neden olabilir.
- B) Ne zaman olacağı önceden bellidir.
- C) Doğal afet değildir.

1. Okul eşyalarımız ile ilgili aşağıdaki eşleştirmelerden hangisi doğrudur?

A)  → Sayı saymak

B)  → Silmek

C)  → Yazı yazmak

2. Bağımsızlığımızın sembolü aşağıdakilerden hangisidir?

A)  B)  C) 

3. Cumhuriyet İlköğretim Okulu'nun sıraları çok çabuk eskimektedir.

Bu durum aşağıdakilerden hangisi ile açıklanamaz?

A) Öğrenciler teneffüste sıraların üzerinde oynamaktadır.


B) Öğrenciler sıraları gelişmiş güzel kullanmaktadır.

C) Öğrenciler sıraları özenli kullanmaktadır.


4.



Köpek, bize göre

Ozan'ın 

Kedi, bize göre

Ozan'ın 

"■" ve "▲" ile gösterilen yerler hangi seçenekteki kelimelerle tamamlanmalıdır?

A) ▲ solundadır ■ sağındadır

B) ▲ sağındadır ■ solundadır

C) ▲ solundadır ■ solundadır

5.



Arda

.....?

Atatürk'ün annesidir.



Ceren

Ceren'in verdiği cevaba göre, Arda'nın konuşma balonuna hangi seçenekteki soru yazılmalıdır?

A) Zübeyde Hanım kimdir?

B) Makbule Hanım kimdir?

C) Letafet Hanım kimdir?

6.



Nisan ayında hangi millî bayramımızı kutlarız?

A) Cumhuriyet Bayramı

B) Ulusal Egemenlik ve Çocuk Bayramı

C) Gençlik ve Spor Bayramı

