


1.




Ayşe'nin tahtaya resimlerini çizdiği meyvelerden kaç tanesi küreye benzer?

- A) 1 B) 2 C) 3

2. Hangi seçenekteki varlık silindire benzemez?






3.



Yukarıdaki nesnelere hangisi prizmaya benzemez?

- A) B) C)

4. Varlıklar ve benzediği geometrik cisimler ile ilgili aşağıdaki eşleştirmelerden hangisi doğrudur?



5. Masanın üzerindeki varlıklardan hangileri koniye benzer?



- A) 1-2 B) 2-3 C) 1-3

6.



..... küreye benzemez.

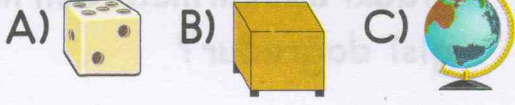
Yukarıdaki cümle, hangi seçenekteki kelime ile tamamlanmaz?

- A) Basketbol topu  
B) Misket  
C) Kalem

7.



Aşağıdaki varlıklar-  
dan hangisi bana **ben-  
zemez?**



8.



Yukarıdaki varlıkların benze-  
diği geometrik cisimler, han-  
gi seçenekte doğru olarak  
sıralanmıştır?

- A) 1-Koni 2-Prizma 3-Silindir  
B) 1-Koni 2-Prizma 3-Koni  
C) 1-Koni 2-Küp 3-Küre

9.




- \* Küreye benzer,  
\*\* Hem silindire hem de  
koniye benzer.  
\*\*\* Prizmaya benzer.

Kibrit kutusu ile ilgili yuka-  
rıda ifade edilenlerden kaç tanesi  
doğrudur?

- A) 3 B) 2 C) 1

10.



Yukarıdaki cisimlerden han-  
gisi **yanlış** adlandırılmıştır?

- A) 3 B) 2 C) 1


11.



Güneş, hangi geometrik  
cisime benzer?

- A) Silindir B) Küre C) Küp

12.



Ahmet, küpe benzeyen varlıkları  
..... boyamıştır.

"★" ile gösterilen yere hangi  
seçenekteki kelime getiril-  
melidir?

- A) maviye  
B) kırmızıya  
C) yeşile



(İlk 6 soruyu yukarıdaki görsele göre cevaplayınız.)

1. Hangi tekne kıyıya daha yakındır?

- A) Kırmızı tekne
- B) Yeşil tekne
- C) Mor tekne

2. Köpek ile ilgili aşağıdaki ifadelerden hangisi doğrudur?

- A) Köpek, denizin içindedir.
- B) Köpek, sarı şemsiyenin altındadır.
- C) Köpek, ağacın yakınındadır.

3. Kedi, ağacın ..... ile gösterilen yere hangi seçenekteki kelime getirilmelidir?

"●" ile gösterilen yere hangi seçenekteki kelime getirilmelidir?

- A) üstündedir
- B) altındadır
- C) içindedir

4.



Aşağıdakilerden hangisi Asli'nin solunda yer alır?

- A) Sarı şemsiye
- B) Pembe şemsiye
- C) Emre


5.

Tekneler, Ozan'ın .....

Yukarıdaki ifadeyi doğru olarak tamamlayan kelime hangisidir?

- A) arkasındadır
- B) üstündedir
- C) önündedir


6.



Yukarıdaki varlıklardan hangisi diğerlerine göre daha alçaktadır?

- A) 3
- B) 2
- C) 1


7



Ağaca **en uzak** olan hayvan hangisidir?

- A) Tilki B) Koyun C) At

8.



.....▲..... tümsektedir.

.....■..... çukurdadır.

"▲" ve "■" ile gösterilen boşluklar, hangi seçenekteki kelimelerle tamamlanmalıdır?

- A) ▲ Tavşan ■ İnek  
B) ▲ Sincap ■ İnek  
C) ▲ İnek ■ Tavşan


9.



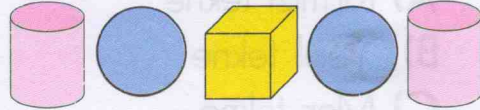
Yukarıda renksiz olarak verilen nesnenin eşi aşağıdaki-lerden hangisidir?

- A)  B)  C) 

10. Aşağıdaki seçeneklerin hangisinde, baştaki varlığın eşi, **en sonda** verilmiştir?



11.




Yukarıdaki geometrik cisimlerden hangisinin eşi **yoktur**?

- A) Küre B) Silindir C) Küp

12.





Aşağıdaki nesnelere hangisi eşiy-le birlikte kullanılır?






örüntüsünde boş bırakılan yere aşağıdakilerden hangisi getirilmelidir?



Yukarıdaki örüntünün kuralı hangi seçenekte doğru olarak verilmiştir?

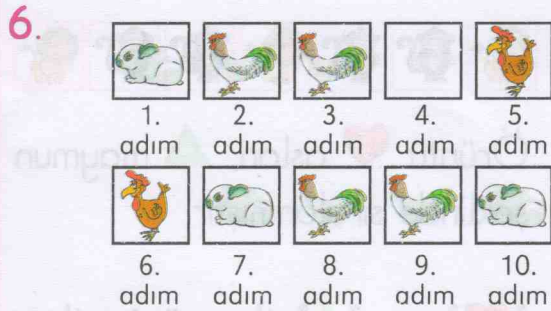
- A) Her adımda bir yaprak artmıştır.  
 B) Her adımda bir yaprak azalmıştır.  
 C) Her adımda iki yaprak azalmıştır.



Yukarıdaki örüntüde boş bırakılan yere hangi nesne gelmelidir?



5. Aşağıdaki dizilişlerden hangisi örüntüdür?



Yukarıdaki örüntünün 4. adımında hangi hayvan yer almalıdır?





örüntüsünde kuralı bozan meyve hangisidir?

- A) B) C)



örüntüsünde boş bırakılan yere hangi şekil gelmelidir?


- A) B) C)



Örüntü aslan, maymun şeklinde sıralanmıştır.

"" ve "" ile gösterilen yerler, hangi sayılarla tamamlanmalıdır?

- A) 1 2  
B) 2 1  
C) 1 3



örüntüsündeki eksik toplar hangileridir?

- A) -   
B) -   
C) -



Harflerle oluşturulmuş örüntüde, "☆" yerine hangi harf gelmelidir?

- A) B) C)



Yukarıdaki örüntüde "?" yerine hangi şekil gelmelidir?

- A) B) C)

